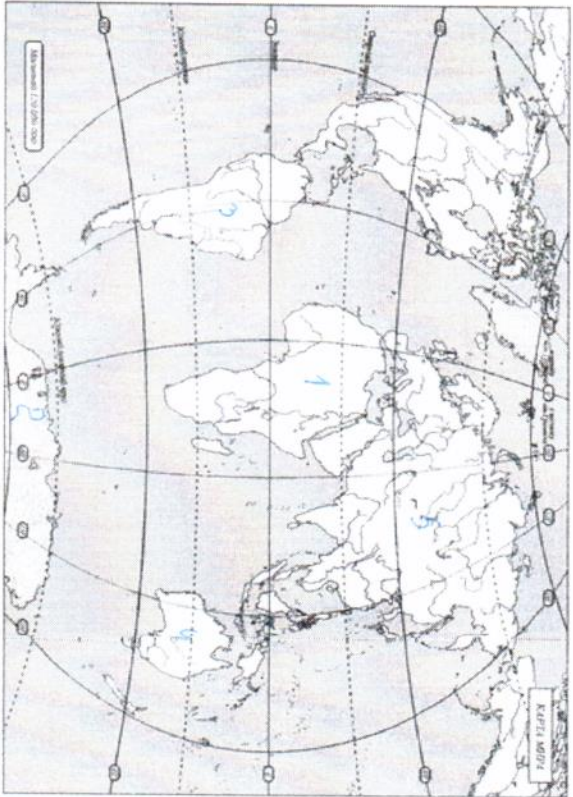


5B8

Весенняя олимпиада школьников 2024-2025 учебный год  
 Школьный этап. География, 5 класс.  
 Время выполнения 45 мин. Максимальное кол-во баллов – 20  
 БЛАНК ОТВЕТОВ

№ задания	Ответ	Кол-во баллов	№ задания	Ответ	Кол-во баллов
1	a	15	9	5	15
2	погода	15	10	5	15
3	b	05	11	2	15
4	a	15	12	b	15
5	a	05	13	a	15
6	разносы	05	14	b	15
7	b	15	15	8	15
8	a	15			
Всего баллов					125

Практический тур



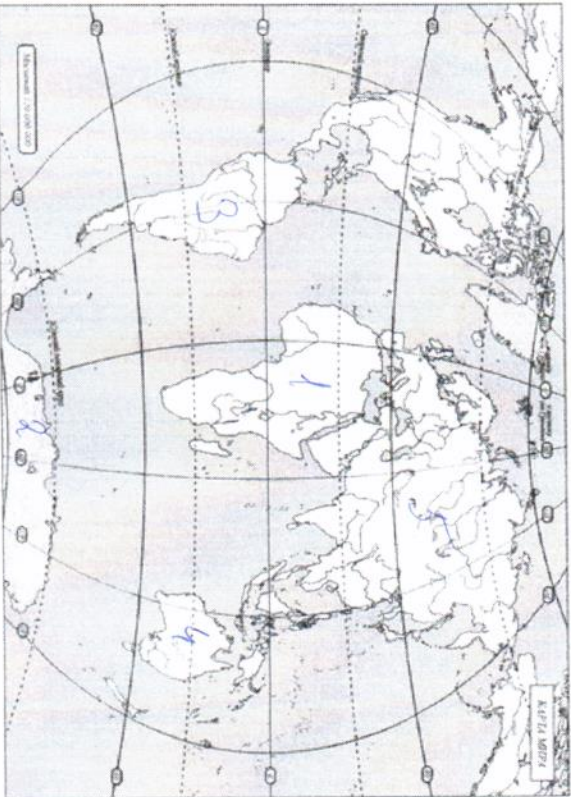
Итого: 17 баллов 58

5 ББ

Всероссийская олимпиада школьников 2024-2025 учебный год  
Школьный этап. География. 5 класс.  
Время выполнения 45 мин. Максимальное кол-во баллов – 20  
БЛАНК ОТВЕТОВ

№ задания	Ответ	Кол-во баллов	№ задания	Ответ	Кол-во баллов
1	а	15	9	б	15
2	эконом	05	10	б	15
3	б	05	11	а	15
4	а	15	12	б	15
5	а	15	13	а	15
6	интервью	05	14	б	15
7	б	15	15	б	15
8	а	15			
Всего баллов					125

Практический тур



58

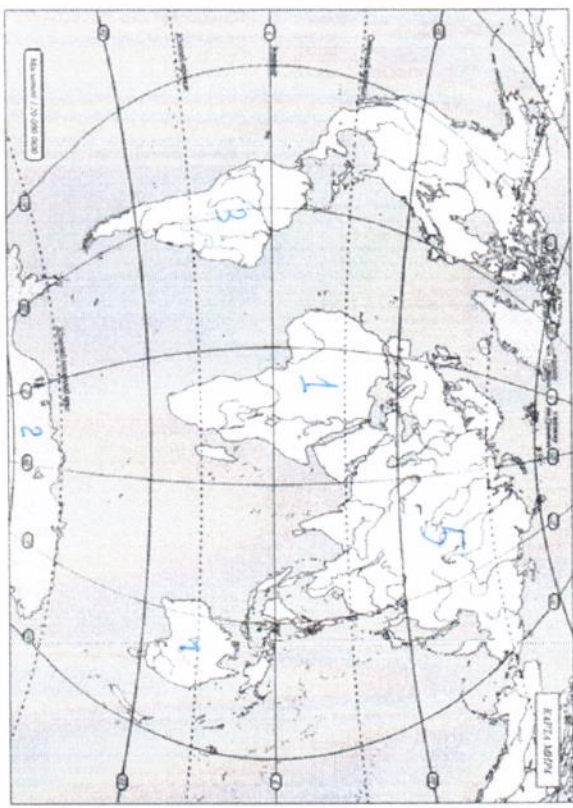
Итого: 19 баллов

557

Всероссийская олимпиада школьников 2024-2025 учебный год  
 Школьный этап I география, 5 класс.  
 Время выполнения 45 мин. Максимальное кол-во баллов – 20  
 БЛАНК ОТВЕТОВ

№ задания	Ответ	Кол-во баллов	№ задания	Ответ	Кол-во баллов
1	a	15	9	5	15
2	Океаник	05	10	5	15
3	8	05	11	2	15
4	a	15	12	B	15
5	a	05	13	a	15
6	различия	05	14	B	15
7	8	15	15	B	15
8	a	15			
Всего баллов					115

Практический тур



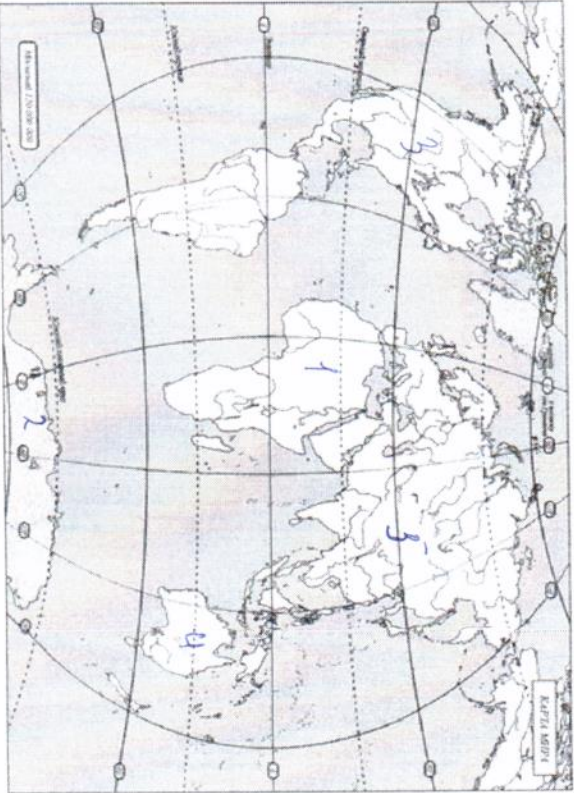
Итого: 16 баллов 55

5 ФМ-14

Всероссийская олимпиада школьников 2024-2025 учебный год  
 Школьный этап. География. 5 класс.  
 Время выполнения 45 мин. Максимальное количество баллов – 20  
 БЛАНК ОТВЕТОВ

№ задания	Ответ	Кол-во баллов	№ задания	Ответ	Кол-во баллов
1	A	15	9	BA	05
2	море	15	10	B	05
3	B	15	11	T	15
4	A	15	12	B	15
5	B	05	13	A	15
6	120000000	05	14	B	15
7	B	15	15	B	15
8	A	15			
Всего баллов					115

Практический тур



Итого: 16 баллов

55

6B8

Всероссийская олимпиада школьников 2024-2025 учебный год  
 Школьный этап. География. 6 классы  
 Время выполнения 45 мин. Максимальное количество баллов – 31  
**Б. ЛАНС ОТВЕТОВ**

**Тестовый тур**

№ задания	Ответ	Кол-во баллов	№ задания	Ответ	Кол-во баллов
1	A	0,5	9	B	1,5
2	Г	1,5	10	B	1,5
3	Г	1,5	11	Сезон СЕВЕРНО-ЛЕДОВЫЙ	1,5
4	A	1,5	12	Г	1,5
5	ТОПОГРАФИЧЕСКАЯ	1,5	13	B	1,5
6	B	1,5	14	A	1,5
7	Г	1,5	15	B	1,5
8	A	1,5			
<b>Всего баллов</b>					<b>14,5</b>

**Практический тур**

Задание 1. Максимальное количество баллов – 10.

1) Подпишите условные обозначения плана местности, обозначенные цифрами

Цифра	Название	Кол-во баллов
1	ГЕОГРАФИЧЕСКАЯ КАРТА	1,5
2	Курган	
3	Курган	
4	МЕЛКАЯ РЕКА	1,5
5	РЕКА	
6	Гидроэлектростанция	2,5

2) Что производит завод, изображенный на плане?

3) Какой тип дороги соединяет железнодорожную станцию с домиком лесника?

4) Какой тип моста соединяет автомобильную дорогу?

- Задание 2. Максимальное количество баллов – 6 баллов.**
- Самый пустынный материк (без учета снежных пустынь Антарктиды).
  - Материк с самой большой численностью населения.
  - Материк, не имеющий коренного населения.

- Материк – континент человечества.
- Материк, где расположен самый высокий водопад в мире.
- Материк, где расположен самый большой в мире речной каньон.

№	Материк
1	Австралия
2	Евразия
3	Амурская
4	Африка
5	Южная Америка
6	Северная Америка

6,5

географический план

Итого: 22 балла

6 B 9

Всероссийская олимпиада школьников 2024-2025 учебный год  
Школьный этап. География. 6 классы  
Время выполнения 45 мин. Максимальное количество баллов – 31

**БЛАНК ОТВЕТОВ**  
Тестовый тип

№ задания	Ответ	Кол-во баллов	№ задания	Ответ	Кол-во баллов
1	А	0,5	9	Б	1,5
2	Г	1,5	10	Б	1,5
3	Г	1,5	11	Б	1,5
4	Г	1,5	12	Б	1,5
5	Д	1,5	13	Б	1,5
6	Д	1,5	14	А	1,5
7	Б	1,5	15	Б	1,5
8	Г	1,5			
Всего баллов					14,5

Практический тип

Задание 1. Максимальное количество баллов – 10.

1) Подпишите условные обозначения плана местности, обозначенные цифрами

Цифра	Название
1	горный массив
2	деревья
3	песчаный холм
4	болото
5	болото
6	высокий холм

2,5

3) Какой тип дороги соединяет железнодорожную станцию с домиком лесника?

4) Какой тип моста соединяет автомобильную дорогу?

Задание 2. Максимальное количество баллов – 6 баллов.

1. Самый пустынный материк (без учета снежных пустынь Антарктиды).

2. Материк с самой большой численностью населения.

3. Материк, не имеющий коренного населения.

4. Материк – колыбель человечества.

5. Материк, где расположен самый высокий водопад в мире.

6. Материк, где расположен самый большой в мире речной каньон.

№	Материк	баллы
1	Австралия	1,5
2	Южная Америка	1,5
3	Евразия	1,5
4	Азия	1,5
5	Северная Америка	1,5
6	Южная Америка	1,5

6,5

Итого: 22 балла

6 В 7

Всероссийская олимпиада школьников 2024-2025 учебный год  
 Школьный этап География, 6 классы  
 Время выполнения 45 мин. Максимальное количество баллов – 31  
**Б. ЛАНС ОТВЕТОВ**

Тестовый тур		Практический тур	
№ задания	Ответ	№ задания	Ответ
1	A	9	B
2	Г	10	B
3	Г	11	Северная Америка
4	A	12	Г
5	Тонгарафу и Чили	13	B
6	B	14	A
7	Г	15	B
8	A		
Всего баллов			

Практический тур  
 Задание 1. Максимальное количество баллов – 10.  
 1) Подпишите условные обозначения плана местности, обозначенные цифрами

Цифра	Название
1	МОСТ
2	Чертовы курганы
3	
4	исходный пункт маршрута
5	устье реки
6	протока

- 2) Что производит завод, изображенный на плане? **25**
- 3) Какой тип дороги соединяет железнодорожную станцию с домиком лесника?
- 4) Какой тип моста соединяет автомобильную дорогу?

Задание 2. Максимальное количество баллов – 6 баллов.

- 1. Самый пустынный материк (без учета снежных пустынь Антарктиды).
- 2. Материк с самой большой численностью населения.
- 3. Материк, не имеющий коренного населения.

№	Материк
1	Австралия
2	Евразия
3	Антарктида
4	Южная Америка
5	Северная Америка
6	Северная Америка

65

Итого: 22 балла

- 4. Материк – континент Человечества.
- 5. Материк, где расположен самый высокий водопад в мире.
- 6. Материк, где расположен самый большой в мире речной каньон.

Б В 10

Всероссийская олимпиада школьников 2024-2025 учебный год  
 Школьный этап. География. 6 классы  
 Время выполнения 45 мин. Максимальное количество баллов – 31  
**Б. ЛИНК ОТВЕТОВ**

**Тестовый тур**

№ задания	Ответ	Кол-во баллов	№ задания	Ответ	Кол-во баллов
1	A	0,5	9	B	1,5
2	Г	1,5	10	B	1,5
3	Г	1,5	11	Собака	1,5
4	A	1,5	12	Горы	1,5
5	А искусственный материк	1,5	13	B	1,5
6	B	1,5	14	A	1,5
7	Г	1,5	15	B	1,5
8	A	1,5			
Всего баллов					14,5

**Практический тур**

Задание 1. Максимальное количество баллов – 10.  
 1) Подпишите условные обозначения плана местности, обозначенные цифрами

Цифра	Название
1	Хорошо
2	Устье
3	Шельфовый ледник
4	Шельфовый ледник
5	Шельфовый ледник
6	Хорошо

3) Какой тип дороги соединяет железнодорожную станцию с доминик лесника?

28

4) Какой тип моста соединит автомобильную дорогу?

28

Задание 2. Максимальное количество баллов – 6 баллов.

- Самый пустынный материк (без учета снежных пустынь Антарктиды).
- Материк с самой большой численностью населения.
- Материк, не имеющий коренного населения.

- Материк – количество человечества.
- Материк, где расположен самый высокий водопад в мире.
- Материк, где расположен самый большой в мире речной каньон.

№	Материк
1	Австралия
2	США
3	Южная Америка
4	Южная Америка
5	Южная Америка
6	США

68

Итого: 24 балла



52-18.

Всероссийская олимпиада школьников 2024-25 учебный год

Школьный этап I география, 9 класс

Время выполнения 90 мин. Максимальное кол-во баллов – 60

**БЛАНК ОТВЕТОВ**

№ задания	Ответ	Кол-во баллов	№ задания	Ответ	Кол-во баллов
1	б	0	11	б	0
2	2	1	12	2	0
3	2	1	13	2	1
4	б	1	14	б	0
5	2	0	15	б	1
6	б	0	16	б	1
7	б	0	17	б	0
8	а-б-в-г-д-е-ж-з-и-к-л-м-н-п-р-с-т-у-ф-х-ц-ч-ш-щ-ъ-ы-ь-э-ю-я	1	18	б	1
9	испаряющее	1	19	б	1
10	ИТОГО	1	20	2	1

Тестовый тип

Практический тип

Задание 1.

Ответы:

- 1) 5
- 2) больше 1400
- 3) 1554

Максимальное число баллов за задание - 6

Задание 2.

Ответы:

- 1) 42
- 2) 14 страна
- 3) 3 - Беларусь
- 7 - Литва и Латвия
- 8 - Эстония
- 14 - Россия

Максимальное число баллов за задание - 8

Задание 3.

За каждый правильный ответ по 2 балла

1.	Саям	0
2.	Лактеблх	2
3.	Байга	0
4.	Саям - шувуушээ	2
5.	Чирхээ сожа.	0

Максимальное число баллов за задание – 10

Задание 4.

№	На каком материке обитают эти животные (0,5 балла)	Какое место занимает этот материк по площади среди материков (0,5 балла)	В каком полушарии находится этот материк (по 0,5 за каждое)	В каких климатических поясах материк расположен (по 0,5 за каждый правильный ответ)	Всего баллов
1	Южная Америка	4	Западное		
2	Арктика	2	Южная	Экватор, субэкватор;	
3	Евразия	1	Северное	Арктический, умеренный, субарктический	8,5

Максимальное число баллов за задание – 16

**БЛАНК ОТВЕТОВ**

№ задания	Ответ	Кол-во баллов	№ задания	Ответ	Кол-во баллов
1	б	0	11	Б, Г	1
2	2	1	12	Г	0
3	2	1	13	Г	1
4	б	1	14	а	1
5	а	0	15	В	0
6	б	0	16	В	0
7	б	1	17	б	0
8	а-5; в-1; г-3 б-6; д-4; е-2	1	18	б	1
9	Адвокатское	1	19	б	1
10	б	1	20	Г	1
<b>Итого</b>					

Тестовый тип

Практический тип

Задание 1.

Ответы:

- 1) 5. 2
- 2) более 1500 2
- 3) 1954 год. 2

Максимальное число баллов за задание - 6

Задание 2.

Ответы:

- 1) 42 2
- 2) 14 страна 2
- 3) 3: Беларусь 1
- 7 - Австралия
- 8 - Австралия
- 14 - Россия 0

Максимальное количество баллов за задание - 8

Задание 3.

За каждый правильный ответ по 2 балла

1.	Бонн-Тонна	—
2.	Лангедок	2
3.	Бонна	
4.	Саво-Угумская	2
5.	Серва	Сарка

Максимальное число баллов за задание - 10

Задание 4.

№	На каком материке обитает эти животные (0,5 балла)	Какое место занимает этот материк по площади среди материков (0,5 балла)	В каком полушарии находится это материк (по 0,5 за каждое)	В каких климатических поясах материк расположен (по 0,5 за каждый правильный ответ)	Всего баллов
1	Южная Америка	4	Южное	Тропический Экваториальный	
2	Африка	2	Северная и Южная	Тропический Экваториальный и Умеренный	
3	Евразия	1,5	Северная	Умеренный, арктический, субэкваториальный	3,5

Максимальное число баллов за задание - 16

**БЛАНК ОТВЕТОВ**

№ задания	Ответ	Кол-во баллов	№ задания	Ответ	Кол-во баллов
1	6	0	11	6	0
2	2	1	12	2	0
3	2	1	13	2	1
4	2	1	14	1	0
5	62	1	15	6	1
6	0	0	16	6	1
7	0	1	17	6	0
8	0-5,8-1 Г-4,9-3,е-2 Ядротское	1	18	6	1
9	Ядротское	1	19	0	1
10	6	1	20	2	1
<b>ИТОГО</b>					

Тестовый тип

Практический тип

Задание 1.

Ответ:

- 5
- Сократе 1450 2
- 1854г. 2

Максимальное число баллов за задание - 6

Задание 2.

Ответы:

- 1) 12 22
- 2) 14 Европа 22
- 3) 10 Бенарис 10
- 2 Дзондус 10
- \* Пурба ман дарибус 0
- 1) Писага 0

Максимальное число баллов за задание - 8

Задание

За каждую правильную ответ по 2 балла

1.	Самый лучший материал	—
2.	Материал	2
3.	Бочка	0
4.	Самодельное	2
5.	Материал	0

Максимальное число баллов за задание - 10

Задание 4.

№	На каком материале обитают эти животные (0,5 балла)	Какое место занимает этот материал среди материалов (0,5 балла)	В каком полушарии находится это материк (по 0,5 за каждое)	В каких климатических поясах материк расположен (по 0,5 за каждый за каждый правильный ответ)	Всего баллов
1	Юж. Америка	4	Южная	Субтроп., субэкватор., тропич., субтроп., умеренный	0
2	Африка	2	Южная	Субэкватор., тропич., субтропич., умеренный	
3	Евразия	1	Северная	Арктический, умеренный, субтропич., субэкватор., умеренный	

Максимальное число баллов за задание - 16

Время выполнения 90 мин. Максимальное кол-во баллов – 60

**БЛАНК ОТВЕТОВ**

№ задания	Ответ	Кол-во баллов	№ задания	Ответ	Кол-во баллов
1	Б	0	11	Б	0
2	2	1	12	2	0
3	2	1	13	2	1
4	Б	1	14	Б	1
5	Б, 2	1	15	Б	1
6	Б	0	16	Б	1
7	Б	1	17	Б	0
8	АББВВГГДДЗ Е-2	1	18	Б	1
9	на границе	1	19	Б	1
10	Б	1	20	2	1
<b>ИТОГО</b>					

Тестовый тип

**Практический тип**

Задание 1.

Ответы:

- 1) 5
- 2) Бонне 1500
- 3) 1954

Максимальное число баллов за задание - 6

Задание 2.

Ответы:

- 1) 42
- 2) 14 спавс
- 3) ~~14 спавс~~ Бенергис
- 7- Австралия
- 8- Австралия
- 11- Россия

Максимальное число баллов за задание - 8

Задание 3.

Задание 3. правильный ответ по 2 балла

1	Дом - вилла	-
2	<del>Фабрика</del> Лантсбах	2
3	Ботван	-
4	Самое - лучшее	2
5	Черная земля	-

Максимальное число баллов за задание - 10

Задание 4.

№	На каком материке обитают эти животные (0,5 балла)	Какое место занимает этот материк по площади среди материков (0,5 балла)	В каком полушарии находится этот материк (по 0,5 за каждое)	В каких климатических поясах материк расположен (по 0,5 за каждый правильный ответ)	Всего баллов
1	Австралия	4	Южное	Экватор, умеренный	-
2	Африка	2	Восточн	Экватор, тропический субтропический	-
3	Евразия	1	Северн	Арктический умеренный субтропический	3,5

Максимальное число баллов за задание - 16



Всероссийская олимпиада школьников 2024-2025 учебный год  
 Школьный этап. География, 8 класс  
 Время выполнения 60 мин. Максимальное кол-во баллов – 48

**БЛАНК ОТВЕТОВ**

**Тестовый тип**

№ задания	Ответ	Кол-во баллов	№ задания	Ответ	Кол-во баллов
1	26	1	10	РА	1
2	0	0	11	<del>В</del>	0
3	2	1	12	В	1
4	2	0	13	ГВ	1
5	Лусси	0	14	А	1
6	0	1	15	В, А	0
7	А	0	16	Г, А	1
8	2-ч, Е-2, Б-4, А3, А5, Д2	1	17	Б	0
9	А1, Б-5, В-4, Г-2	0	18	Г	1
Всего					

**Практический тип**

**Задание 1. Максимальное количество баллов - 10**

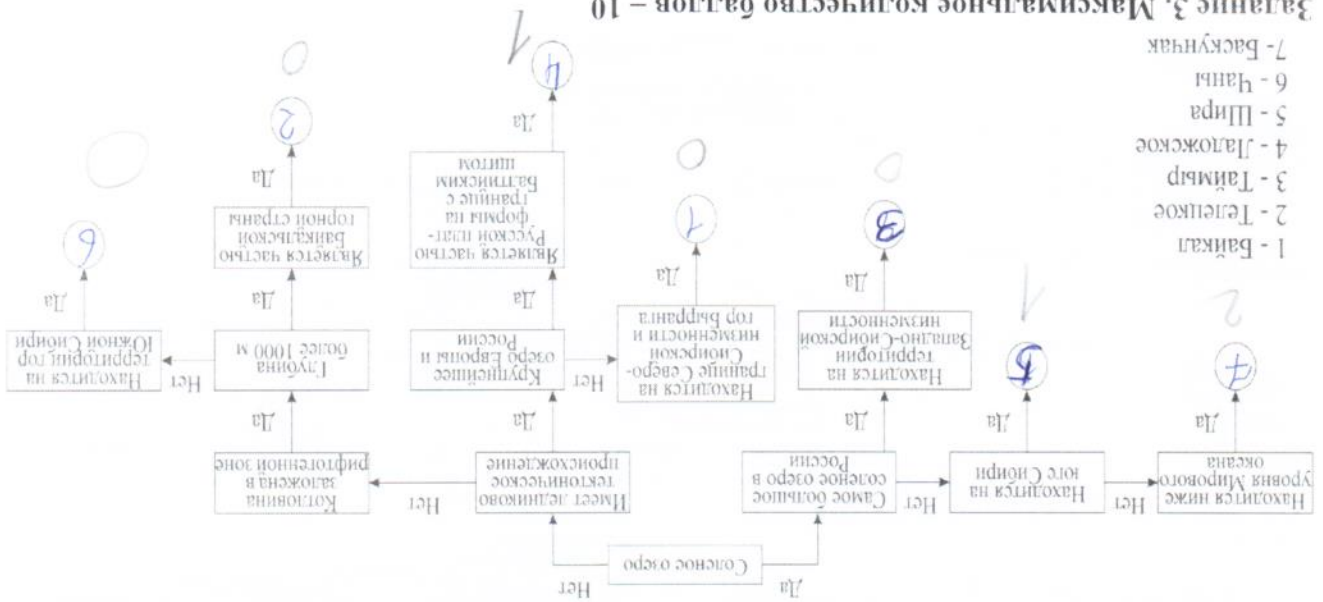
t °C	января	июля	t °C	Головая	амплитуда	осадков за	Количество	Месяц с	наибольшим	количеством	осадков	ГОД	Осадки за	Осадки	Единица	измерения	минимальное	количество	осадков	ГОД	Единица
-20°	✓		+16°	36	3	1	500	Уральск	1	1	1	10	1	10	мм						

**Задание 2.**

Впишите в кружки цифры, соответствующие названию озёр.

**Максимальное количество баллов – 10**

Задание 3. Максимальное количество баллов – 10



Тип рельефа	Рельефообразующие процессы		Номер описания	Название процесса	Территория России с преобладающим типом рельефа
	Рельефообразующие процессы	Название процесса			
Золотой рельеф	4	0	4	эрозионная	Кавказ
Флювиальный рельеф	3	0	3	эрозионная	юго-восточная Сибирь - Сургутская
Мерзлотный рельеф	5	0,5	5	напухание	Сибирь
Прибрежный рельеф	1	0,5	1	волновая эрозия	восточные Девонские горы
Ледниковый рельеф	2	0,5	2	эрозионная	Сибирь - Сургутская

82-5

Всероссийская олимпиада школьников 2024-2025 учебный год  
Школьный этап. География, 8 класс  
Время выполнения 60 мин. Максимальное кол-во баллов – 48

**БЛАНК ОТВЕТОВ**

**Тестовый тип**

№ задания	Ответ	Кол-во баллов	№ задания	Ответ	Кол-во баллов
1	B, Г	1	10	A	1
2	B	0	11	Географический	0
3	B, Г, Д	1	12	B	1
4	Г	0	13	Г, Б	1
5	Климат	0	14	A	1
6	B	1	15	0, A	0
7	A	0	16	Г	1
8	Г, Б, В, Д, А, Б, В	1	17	B	0
9	A-Г, Б-В, Г, Д	1	18	Г	1
Всего					

**Практический тип**

**Задание 1. Максимальное количество баллов - 10**

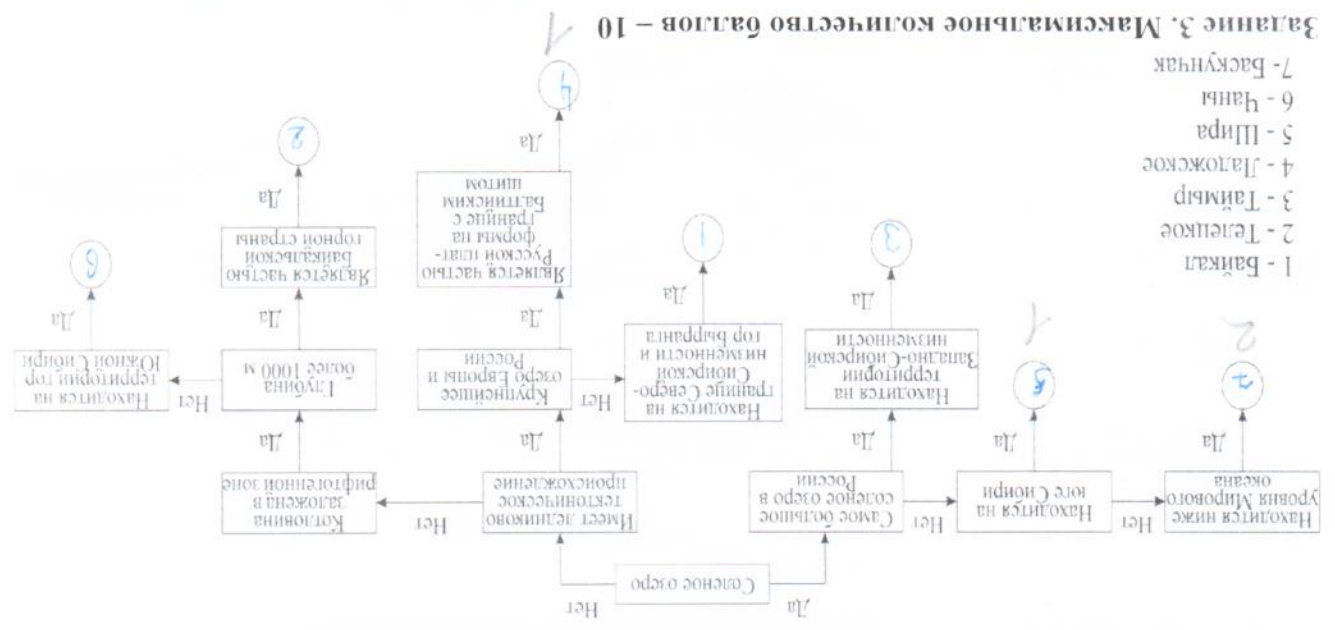
t °C	января	июля	t °C	Годовая амплитуда	осадков за	Количество	Месяц с наибольшим количеством	осадков	Определите	Единица измерения	изменения количества	осадков
-20	1	1	+18	3	1	1	1	1	Осадков за год	мм	1	1
500			36°									

**Задание 2.**

Впишите в кружки цифры, соответствующие названному озеру.  
Максимальное количество баллов – 10

82-5

- 1 - Байкал
- 2 - Телецкое
- 3 - Тимыр
- 4 - Лаложское
- 5 - Шира
- 6 - Чаны
- 7 - Баскунчак



Тип рельефа	Рельефообразующие процессы		Номер описания	Название процесса	Преобладающим типом рельефа
	Рельефообразующие процессы	Номер описания			
Золотой рельеф	4	4	4	процесса	преобладающим типом рельефа
Флювиальный рельеф	3	3	3	процесса	преобладающим типом рельефа
Мерзлотный рельеф	5	5	5	процесса	преобладающим типом рельефа
Прибрежный рельеф	1	1	1	процесса	преобладающим типом рельефа
Ледниковый рельеф	2	2	2	процесса	преобладающим типом рельефа

1,5 1,5

преобладающим типом рельефа

преобладающим типом рельефа

преобладающим типом рельефа

преобладающим типом рельефа

преобладающим типом рельефа

преобладающим типом рельефа

7 ФМ5

Всероссийская олимпиада школьников 2024-2025 учебный год  
Школьный этап. География, 7 класс  
Время выполнения 60 мин. Максимальное кол-во баллов – 38  
**БЛАНК ОТВЕТОВ**

**Тестовый тур**

№ задания	Ответ	Кол-во баллов	№ задания	Ответ	Кол-во баллов
1	B.	10	10	b	00
2	A	10	11	B, A, B, T	00
3	B, T, B, A	10	12	T	00
4	B	00	13	1: 215000	00
5	B.	10	14	T	10
6	T, B, A, B	10	15	T	10
7	B.	10	16	A, B	10
8	10, 20, 30, 40	10	17	B	10
9	T	10	18	A	10
Всего баллов					135

100

**Практический тур**

**Задание № 1.**







**Матрица ответов**





1	2	3	4	5	6	7	8	9	10
3	10	10	10	10	10	10	10	10	10

**Задание № 2.**

Вставьте недостающую информацию о географических приборах в соответствующую колонку. Максимальное количество баллов, которое можно набрать – 10.

Прибор	Название	Для чего служит?

	манометр	Для измерения давления	00
	Куранметр	измерение скорости и направления ветра	10
	глобус	Прибор для наглядной демонстрации годового движения Земли вокруг Солнца и суточного вращения Земли вокруг своей оси.	10
	Гигрометр психрометрический	прибор для измерения влажности воздуха	10
	анемометр	Прибор для измерения направления ветра.	10
	Осадкомер	прибор для измерения количества осадков	10

7. 	ветромер	Прибор для измерения скорости ветра 08
8. 	Сейсмограф 18	прибор, измеряющий колебания земли поверхности
9. 	компас 18	Прибор, предназначенный для определения сторон горизонта и стороны из магнитной стрелки, всегда показывающей на север.
10. 	Лазерный дальномер 18	устройство для измерения расстояния с помощью лазерного луча

18

Умножить: 30 секунд

2 ФМ 15

Всероссийская олимпиада школьников 2024-2025 учебный год  
Школьный этап География, 7 класс  
Время выполнения 60 мин. Максимальное кол-во баллов - 38  
**ВАРИАНТ ОТВЕТОВ**

**Тестовый тур**

№ задания	Ответ	Кол-во баллов	№ задания	Ответ	Кол-во баллов
1	B	18	10	A	18
2	A	18	11	B, A, П, B	08
3	B, B, Г, A	08	12	B	18
4	A	18	13	Б, Г, С, С, С, С, С, С, С, С	08
5	B	18	14	A	08
6	Г, B, A, B	18	15	B	08
7	B	18	16	Г, A	18
8	A, B, B, 1, A, B, C, Г	18	17	Б, A, B	18
9	Г	18	18	A	18
Всего баллов					138

**Практический тур**

Задание № 1.

Матрица ответов





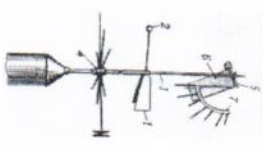

1	08	2	18	3	18	4	18	5	18	6	18	7	18	8	18	9	18	10	18
B, B	3	A	B	E	A	Г	Б, А, П, B	Б	Г, A	Б, A, B	И	К							





Задание № 2.

Вставьте недостающую информацию о географических приборах в соответствующую колонку. Максимальное количество баллов, которое можно набрать - 10.

Прибор	Название	Для чего служит?

98

1.		Барометр манометр	Для измерения давления
2.		18	Прибор для измерения скорости и направления ветра
3.			Прибор для наглядной демонстрации годового движения Земли вокруг Солнца и суточного вращения Земли вокруг своей оси.
4.		Психрометрический	
5.		Анемометр	Прибор для измерения направления ветра.
6.		Осадкомер	18

7.		<p>Анемометр</p> <p>18</p> <p>Прибор для измерения скорости ветра.</p>
8.		<p>Стереограф</p> <p>18</p> <p>Прибор для измерения расстояний в воздухе</p>
9.		<p>Компас</p> <p>18</p> <p>Прибор, предназначенный для определения сторон горизонта и состоящий из намагниченной стрелки, всегда показывающей на север.</p>
10.		<p>Лазерный дальномер</p> <p>18</p> <p>Прибор для измерения расстояний с помощью лазерного луча</p>

Итого: 28 баллов 68



7 ФМ 16

Верхесейнская олимпиада школьников 2024-2025 учебный год  
 Школьный этап География, 7 класс  
 Время выполнения 60 мин. Максимальное кол-во баллов - 38  
**ПЛАНК ОТВЕТОВ**

**Тестовый тип**

№ задания	Ответ	Кол-во баллов	№ задания	Ответ	Кол-во баллов
1	B	10	10	A	10
2	2	11	11	Б, А, В, Г	10
3	2, Б, В, Г, А	12	12	Б, В	10
4	А, В	13	13	13000	10
5	В	14	14	2	10
6	2, Б, А, В, Г	15	15	А	10
7	В	16	16	В	10
8	3-А, 2-Б, 4-В, 1-Г	17	17		10
9	2	18	18		
Результат					<b>120</b>

**Практический тип**

Задание № 1.

Матрица ответов





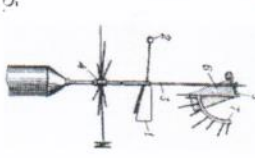

1	0	1	2	3	4	5	6	7	8	9	10
В	Б	А	Б	Г	Е	А	В	Г	Д	Е	Ж





Задание № 2.

Вставьте недостающую информацию о географических приборах в соответствующую колонку. Максимальное количество баллов, которое можно набрать - 10.

Прибор	Название	Для чего служит?
--------	----------	------------------

90

1.		манометр	Для измерения давления
2.		10	Прибор для измерения времени
3.		10	Прибор для наблюдения вращения Земли вокруг Солнца и суточного вращения Земли вокруг своей оси
4.		10	Прибор для измерения направления ветра
5.		10	Прибор для измерения скорости ветра
6.		10	Прибор для измерения направления ветра

7. 	Анемометр 18	Прибор для измерения скорости ветра.
8. 	Сейсмограф 18	Прибор для записи колебаний земли. Книжка по сейсмологии.
9. 	Компас 18	Прибор, предназначенный для определения сторон горизонта и состоящий из намагниченной стрелки, всегда показывающей на север.
10. 	Лазерный дальномер 18	Прибор для измерения расстояния при помощи лазера. Книжка по геодезии.

Итого: 29 баллов / 88

2А13

Всероссийская олимпиада школьников 2024-2025 учебный год  
Школьный этап. География, 7 класс  
Время выполнения 60 мин. Максимальное кол-во баллов – 38  
**БЛАНК ОТВЕТОВ**

**Готовый тур**

№ задания	Ответ	Кол-во баллов	№ задания	Ответ	Кол-во баллов
1	В	10	10	А	10
2	А	10	11	АБГВ	10
3	АГБВ	10	12	Б	10
4	Б	10	13	1905	10
5	В	10	14	Г	10
6	ГБЧБ	10	15	Г	10
7	В	10	16	А	10
8	АБЗГАДГЧБ	10	17	Б	10
9	Г	10	18	В	10
Всего баллов					110

**Практический тур**

**Задание № 1.**

**Матрица ответов**





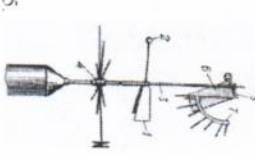

1	2	3	4	5	6	7	8	9	10
З	В	А	Б	Г	Е	Д	Ж	И	К




**Задание № 2.**

Вставьте недостающую информацию о географических приборах в соответствующую колонку. Максимальное количество баллов, которое можно набрать – 10.

Прибор	Название	Для чего служит?
--------	----------	------------------

100

1		Тонометр	Для измерения давления
2		Курвиметр	Для измерения длины
3		Гелиумметр	Прибор для наблюдения деформации головного движения Земли вокруг Солнца и суточного вращения Земли вокруг своей оси.
4		Гигрометр психрометрический	Для измерения влажности воздуха.
5		Анемометр	Прибор для измерения направления ветра.
6		Осадкомер	Прибор для измерения количества осадков.

7. 	Анемометр 18	Прибор для измерения скорости ветра.
8. 	Сейсмограф 18	для измерения колебаний воздуха
9. 	Компас 18	Прибор, предназначенный для определения сторон горизонта и состоящий из намагниченной стрелки, всегда показывающей на север.
10. 	Лазерный дальномер 18	для измерения шири расстрелов и высоты забашенных урта

Итого: 29 баллов 88

11 ФМ 5

Всероссийская олимпиада школьников 2024-2025 учебный год  
 Школьный этап География, 10-11 класс, задания  
 Время выполнения 90 мин. Максимальное кол-во баллов – 60  
 Банк ответов  
 Тестовый тур

Матрица ответов

№ задания	Ответ	Кол-во баллов	№ задания	Ответ	Кол-во баллов
1	A	0,5	11	A	1,5
2	B	1,5	12	селенит	1,5
3	A15 B	0,5	13	B	1,5
4	A-4, Б-3, B-4 Г-6, Д-1	1,5	14	A2 Б6 B3 Г9	1,5
5	Г	1,5	15	B	1,5
6	Бассейн	1,5	16	Экзотиче	1,5
7	A-3 Б-2 B-1 Г-4	1,5	17	Рельеф	1,5
8			18		
9	Б	1,5	19	Точка	1,5
10	Климатическая зона	1,5	20	52413	1,5
Всего					16,5

Практический тур

**Задание 1.** Определите туристический объект, его название и страну, в которой он находится. Запишите название туристического объекта и страну его нахождения. Максимальное количество баллов – 10 баллов.

Туристический объект	Название туристического объекта	Страна нахождения туристического объекта	Кол-во баллов
1.	Демурел Ташкент	Узбекистан	1,5
2.	Ботан Райкиса Индонезия	Индонезия	1,5
3.	Фрудузала	Иран	1,5
4.	Национальный парк	Италия	1,5
5.		Франция	1,5

**Задание 2.** Определите географический район по его характеристике. Максимальное количество баллов – 10.

8,5

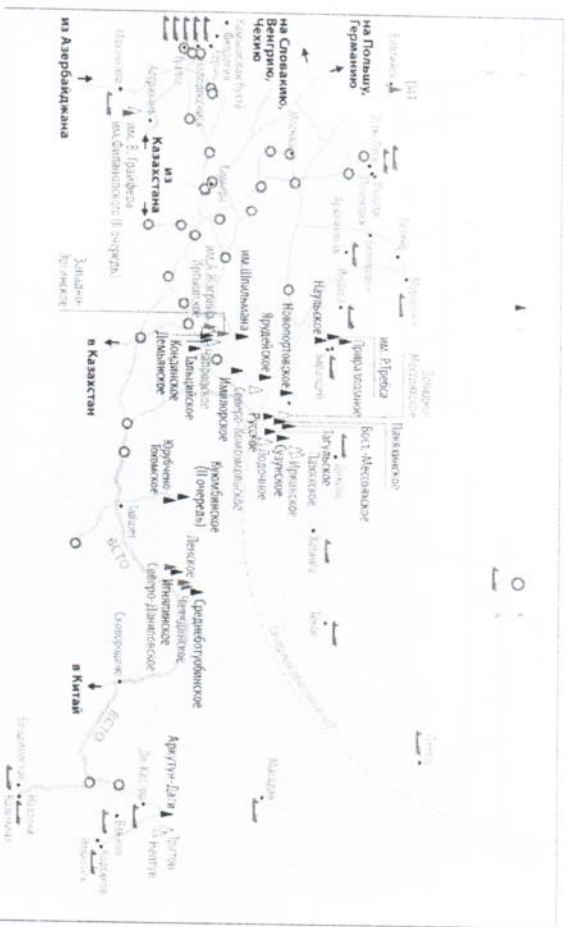
№	Вопрос	Ответы	Кол-во баллов
1.	Назовите географический район	Урал	2,5
2.	Какие два края входят в состав района?	Челябинская область, Курганская область	2,5
3.	Назовите город федерального значения	Свердловск	2,5
4.	Назовите отрасли специализации района	металлургия, машиностроение, химическая промышленность, текстиль	2,5
5.	Назовите крупные города района	Пермь, Екатеринбург, Челябинск, Магнитогорск, Нижний Тагил	2,5

**Задание 3.** Рассчитайте ресурсообеспеченность стран. Используйте данные из приведенной ниже таблицы, сравните ресурсообеспеченность стран пресной водой. Расположите страны в порядке уменьшения в них показателя ресурсообеспеченности пресной водой на душу населения, начиная со страны с наибольшим показателем. Максимальное количество баллов – 10 баллов.

№	Страна	Ресурсообеспеченность
1.	Канада	1
2.	Бразилия	2
3.	Индия	3
4.	Италия	4
5.	Япония	5

**Задание 4.** Перед вами карта. Ответьте на вопросы, используя данную карту. Максимальное количество баллов – 10 баллов.

1) ...  
 2) ...  
 3) ...  
 4) ...  
 5) ...



1) Напишите название карты

2) Напишите название условных обозначений в легенде карты

Цифра	Название
1	деревья
2	свердловский округ
3	негроньская империя
4	русская империя
5	империя

3) Какими видами транспорта можно перевозить данный продукт

по железным (паровозам), по морю,  
на судах с двигателями, по трубопроводам 28

4) Назовите географический район – лидер по добыче данного ресурса

Итого: 84 балла

# 11 ФРМБ

Всероссийская олимпиада школьников 2024-2025 учебный год  
Школьный этап. География. 10-11 класс. задания  
Время выполнения 90 мин. Максимальное кол-во баллов – 60

Бланк ответов  
Тестовый тур

Матрица ответов

№ задания	Ответ	Кол-во баллов	№ задания	Ответ	Кол-во баллов
1	A	0,5	11	A1	1,5
2	B	1,5	12	УСЛАД	1,5
3	A T B B B	0,5	13	B	1,5
4	H4 B3 B7 T B H1	1,5	14	H2 B6 B3 T H	1,5
5	P	1,5	15	B	1,5
6	Египет	1,5	16	Зависит	1,5
7	A3 B2 B7 T H	1,5	17	B1 B2	1,5
8			18		
9	5-2	1,5	19	Тосты	1,5
10	Кочевьякая соль	1,5	20	52413	1,5
	Всего				16,5

Практический тур

### Задание 1.

Определите туристический объект, его название и страну, в которой он находится. Запишите название туристического объекта и страну его нахождения.  
Максимальное количество баллов – 10 баллов.

Туристический объект	Название туристического объекта	Страна нахождения туристического объекта	Колличество баллов
1.	Остров Пасхи	Чили	1,5
2.	Садор Василья Блаженкова	Россия	1,5
3.	Фугуэяля	Япония	1,5
4.	Вечная Каталад Стена	Италия	1,5
5.		Бразилия	1,5

Задание 2. Определите географический район по его характеристике.  
Максимальное количество баллов – 10.

8,5

№	Вопрос	Ответы	Кол-во баллов
1.	Назовите географический район	Команды	2,5
2.	Какие два края входят в состав района?	Краснодарский и Ставропольский	2,5
3.	Назовите город федерального значения	Северодонск	2,5
4.	Назовите отрасли специализации района	Сельское хозяйство	2,5
5.	Назовите крупные города района	Краснодар, став-родонская, северо-донск	2,5

### Задание 3.

Расчитайте ресурсообеспеченность стран. Используя данные из приведенной ниже таблицы, сравните ресурсообеспеченность стран пресной водой. Расположите страны в порядке уменьшения в них показателя ресурсообеспеченности пресной водой на душу населения, начиная со страны с наибольшим показателем.  
Максимальное количество баллов – 10 баллов.

Расположите страны в порядке уменьшения в них показателя ресурсообеспеченности пресной водой на душу населения, начиная со страны с наибольшим показателем.

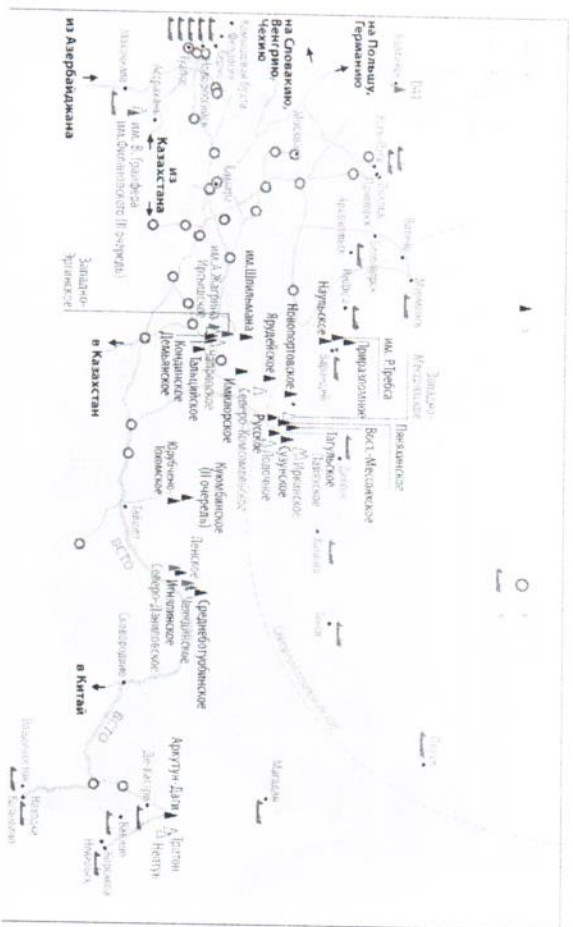
№	Страна	Ресурсообеспеченность
1.	Канада	1,5
2.	Россия	
3.	Нигерия	1,5
4.	Индия	1,5
5.	Мексика	

3,5

### Задание 4.

Перед вами карта. Ответьте на вопрос, используя данную карту.  
Максимальное количество баллов – 10 баллов.

2) 15 = 10,3  
1) 10 = 15



1) Напишите название карты

2) Напишите название условных обозначений в легенде карты

Цифра	Название
1	нефть сырая
2	северный морской путь
3	нефтедобывающий скважина
4	Крушение корабля
5	Тайперы

3) Какими видами транспорта можно перевезти данный продукт

на кораблях, на трубопроводах  
 в сухопутных, на самолетах, на  
 Трубопроводах

4) Назовите географический район – лидер по добыче данного ресурса

Итого: 38 баллов